

Nom : _____ Groupe : _____


Périodes / Continents / Croissant fertile

Examen

Résultat : _____/55

1. Complétez le ruban du temps de la page 2 : **/17**

- a) Complétez la légende. (6 pts.)
- b) Complétez les informations temporelles manquantes. (5 pts.)
- c) Colorez les périodes avec les couleurs que vous avez choisies dans les cartouches qui leurs sont associées. (3 pts.)
- d) Travaillez soigneusement. (3 pts.)

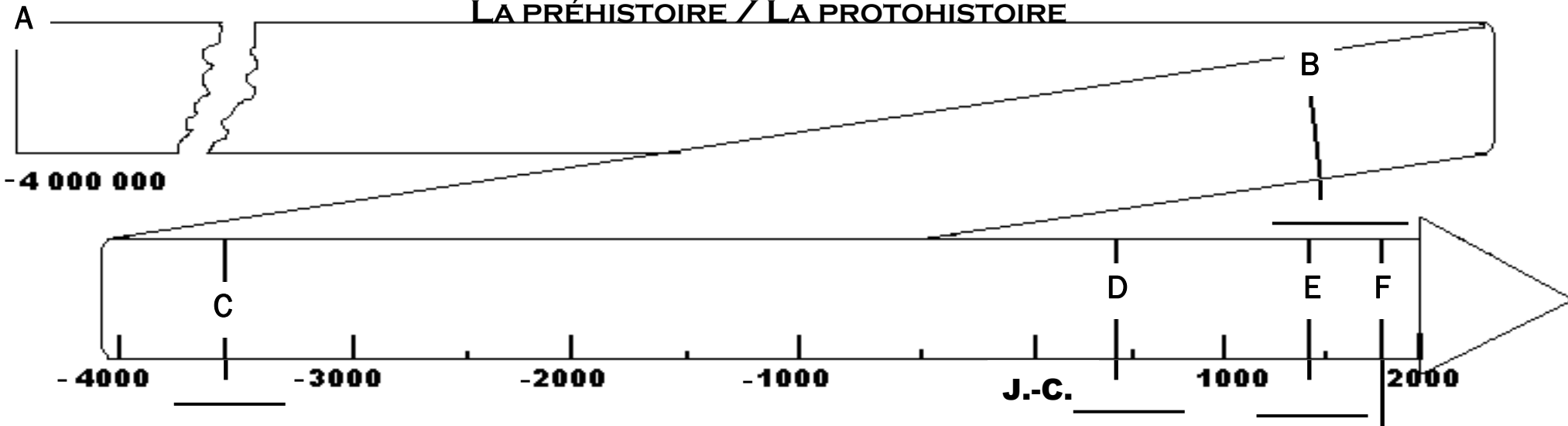


/19

3. Complétez la carte géographique de la page 4 : **/19**

- a) Colorez le Croissant fertile en vert (**contour seulement**). (2 pts.)
- b) Situez les villages manquants sur la carte **à l'aide du code numérique**. (3 pts.)
- c) Indiquez les éléments hydrographiques manquants **dans la légende**. (3 pts.)
- d) Colorez tous les éléments hydrographiques présents sur la carte (5 pts.)
- e) Donnez un titre à la carte. (2 pts)
- f) Travaillez soigneusement. (3 pts)

LA PRÉHISTOIRE / LA PROTOHISTOIRE



PÉRIODES PRÉHISTORIQUES (PRÉHISTOIRE)

- _____ (-4 millions à - 8000)
- _____ (- 10000/-8000 à -3500)

PÉRIODES HISTORIQUES (HISTOIRE)

- _____ (-3500 à 476)
- _____ (476 à 1492)
- _____ (1492 à 1789)
- _____ (1789 à AUJOURD'HUI)

DATES CHARNIÈRES

- A) Vers 4 millions d'années av. J.-C.
Apparition de l'homme
- B) Vers _____
Révolution néolithique (agriculture)
- C) _____
Invention de l'écriture
- D) _____
Chute de Rome (fin de l'empire romain)
- E) _____
Découverte de l'Amérique
- F) _____
Révolution française

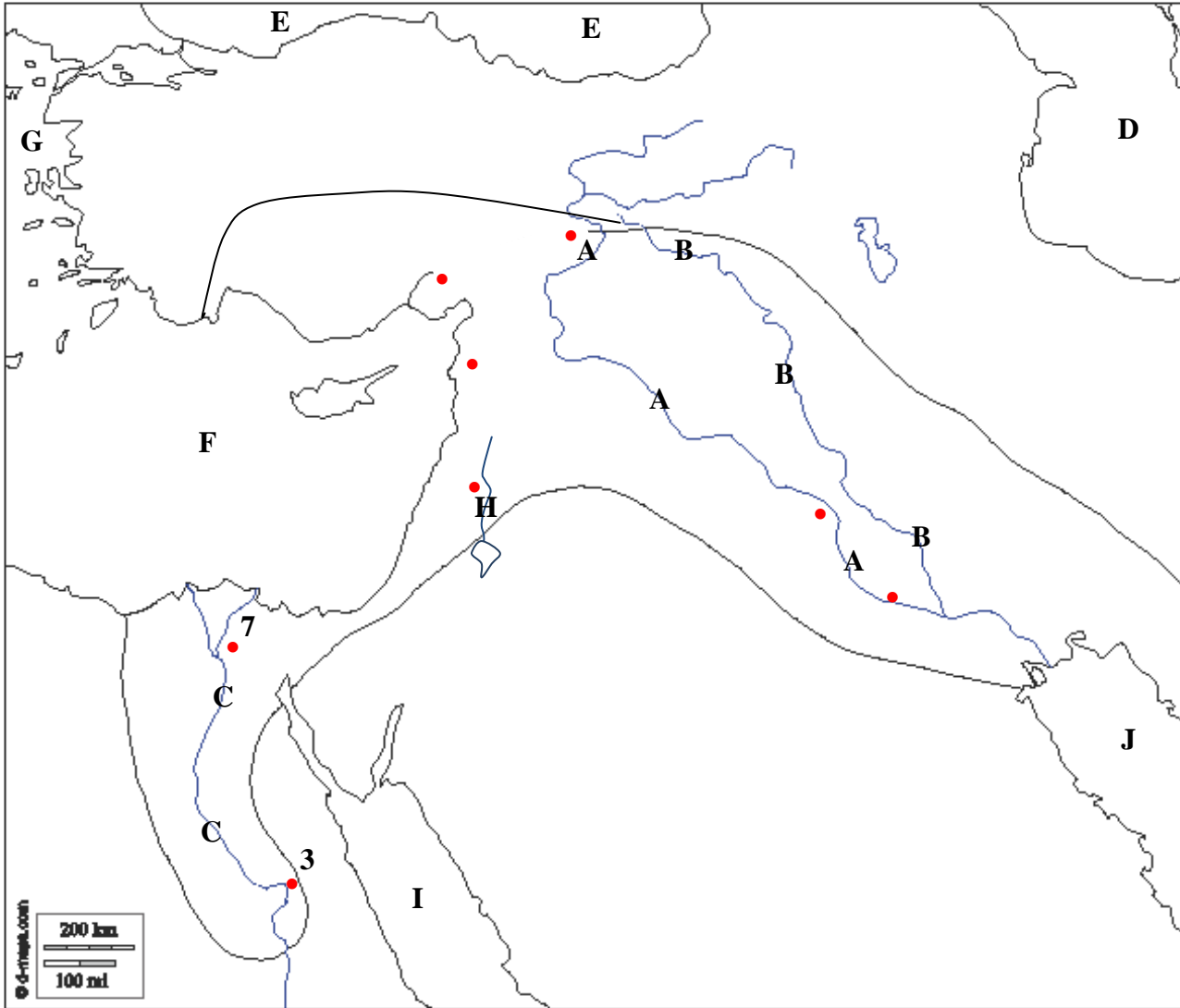
TITRE :



LÉGENDE

- | | | |
|---|-----------------------------------|----------------------------|
| <input type="radio"/> Amérique du Nord | <input type="radio"/> Afrique | A. Océan Atlantique |
| <input type="radio"/> Amérique du Sud | <input type="radio"/> Asie | B. Océan Pacifique |
| <input type="radio"/> Amérique centrale | <input type="radio"/> Océanie | C. Océan Indien |
| <input type="radio"/> Europe | <input type="radio"/> Antarctique | D. Océan Arctique |

Titre : _____



LÉGENDE

Villages

1. Jéricho
2. Çatal Hüyük
3. Thèbes
4. Murreybet
5. Babylone
6. Mallaha
7. Memphis
8. Ur

Hydrographie

- A. _____
- B. _____
- C. _____
- D. Mer Caspienne
- E. Mer Noire
- F. _____
- G. Mer Égée
- H. _____
- I. Mer Rouge
- J. _____